

Te orientează spre
performanță!



Ne pregătim pentru evaluare

LIMBA ROMÂNĂ | MATEMATICĂ

Anca Veronica Tăut

caiet de
aplicații

clasa

4

SINAPSIS®



! Citește cu atenție textul:

Călătoriile lui Gulliver

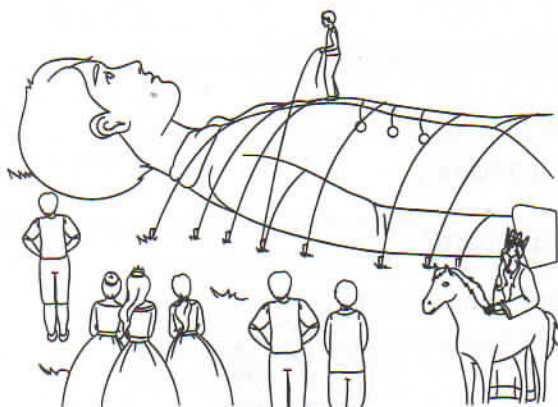
de Johnatan Swift

Introducere:

Într-o călătorie pe mare, corabia lui Gulliver este distrusă, iar el este aruncat de valuri pe țărmul unei insule, fiind singurul supraviețuitor al naufragiului. Personajul zace pe țărm în stare de inconștiență, dar după o vreme își revine, descoperind că este luat prizonier de oamenii aceluia ținut, locuitori ai unor insule vecine Lilliput și Blefuscu, niște oameni care nu erau mai înalți de 15 cm și care îl legaseră în lanțuri.

Capitolul II: Împăratul Lilliput-ului cu mai mulți nobili vin să-l vadă pe Gulliver (Fragment)

Când m-am ridicat în picioare, am privit în jurul meu și trebuie să recunosc că niciodată înainte nu văzusem o priveliște mai încântătoare decât aceea pe care o vedeam acum. Tot ținutul semăna cu o grădină, iar ogoarele, îngrădite, având fiecare doar doisprezece metri pătrați, semănau cu niște straturi minunate de flori. Printre ogoare erau presărate pădurici, iar copacii cei mai înalți aveau doar vreo douăzeci de centimetri. Am privit spre stânga și mi-am dat seama că întreg orașul părea ca un decor pe o scenă de teatru.



Fiind obosit, am intrat în casă și am închis ușa, dar nu am reușit să scap de mulțimea aceea de oameni. A trebuit să ies din nou și ca să mai treacă timpul, am început să mă plimb atât cât îmi permiteau lanțurile cu care mă legaseră. Între timp, împăratul a coborât din turn și se îndrepta spre mine, aventură destul de riscantă, deoarece animalul pe care călărea s-a speriat foarte tare văzând un asemenea uriaș, ca un munte mișcător, și ridicându-se în două picioare, era cât pe ce să-l răstoarne. Doar măiestria de călăreț l-a salvat până când alergară câțiva slujitori și prinzând calul de căpăstru, l-au ajutat să descalece. Când a ajuns la mine, împăratul a început să mă studieze plin

de admirație, dar nu s-a apropiat prea mult. Le porunci bucătarilor să-mi dea să mănânc și să beau. Aceștia mi-au adus un fel de care pline de bucate delicioase pe care m-am grăbit să le golesc. Douăzeci erau încărcate cu carne și zece cu băutură. Din două-trei mușcături nu mai rămânea nimic dintr-un car cu carne și dintr-o singură sorbitură am băut zece vase de pământ câte erau în fiecare din cele zece care.


Împărăteasa, prinții și prințesele, însoțiți de doamne de companie elegante, stăteau mai departe în jilțuri, dar văzând ce i s-a întâmplat împăratului, s-au apropiat ca să-i sară în ajutor. Împăratul era mai înalt cu aproape un lat de unghie decât oricare din curtenii săi, și această diferență de înălțime îi umplea de frică pe toți. Avea trăsături bărbătești și energice, o gură cu buze subțiri și nasul acvilin, tenul măsliniu și statura dreaptă, trupul și membrele bine proporționate, mișcările elegante și ținuta impunătoare. Trecuse de tinerețe, avea douăzeci și opt de ani și nouă luni, dintre care șapte ani și-i petrecuse ca domnitor. (...)

Cum vestea venirii mele se răspândise peste tot prin țară, numeroși bogăteni, gură-cască și pierde-vară au venit să mă vadă. Satele s-au golit aproape de tot, ogoarele și gospodăriile ar fi fost lăsate de izbeliște, dacă împăratul nu ar fi pus capăt acestui lucru neplăcut dând câteva porunci și legi. A hotărât ca aceia care mă văzuseră să se întoarcă acasă și să nu se apropie la o distanță mai mare de patruzeci și cinci de metri de casa mea fără acordul Curții.



Rezolvă cerințele.

- 1 Unde a fost aruncat de valuri Gulliver?
 - a. printre ogoare presărate cu pădurici;
 - b. pe țărmul unei insule;
 - c. într-un oraș necunoscut;
 - d. pe malul unui râu.
- 2 Ce vede Gulliver la trezirea din stare de inconștiență?
 - a. o mulțime de oameni mici;
 - b. o priveliște încântătoare;
 - c. un oraș;
 - d. care pline de bucate delicioase.
- 3 Cu ce seamăna ținutul liliputanilor?
 - a. cu niște straturi minunate de flori;
 - b. cu un decor pe o scenă de teatru;
 - c. cu o grădină;
 - d. cu o insulă.
- 4 Care cuvinte arată dimensiunea fiecărui ogor?
 - a. „douăzeci și opt de ani”;
 - b. „douăzeci erau încărcate cu carne”;
 - c. „având fiecare doisprezece metri pătrați”;
 - d. „era mai înalt cu aproape un lat de unghie decât oricare”.
- 5 Cum se simțea Gulliver după ce a reușit să se ridice în picioare?
 - a. curios să descopere noul ținut;
 - b. înfometat și însetat;
 - c. speriat;
 - d. obosit.
- 6 De ce se deplasa greu Gulliver?
 - a. fiindcă era obosit;
 - b. deoarece mulțimea de oameni curioși nu îi dădea pace;
 - c. pentru că era legat cu lanțuri de către locuitorii Lilliputului;
 - d. fiindcă nu mâncase.
- 7 Notează motivul pentru care calul împăratului s-a speriat foarte tare.



- 8 Împăratul îl tratează pe Gulliver cu ospitalitate. Dă două exemple de gesturi pe care le-a făcut împăratul pentru a-și dovedi ospitalitatea.

a. _____

b. _____

- 9 Numerotează întâmplările în ordinea în care s-au petrecut.

La porunca împăratului, bucătarii i-au adus lui Gulliver care încărcate cu bucate delicioase.

Împăratul a hotărât ca locuitorii ce l-au văzut pe Gulliver să se întoarcă acasă.

1 Gulliver a descoperit un ținut nou cu o priveliște încântătoare.

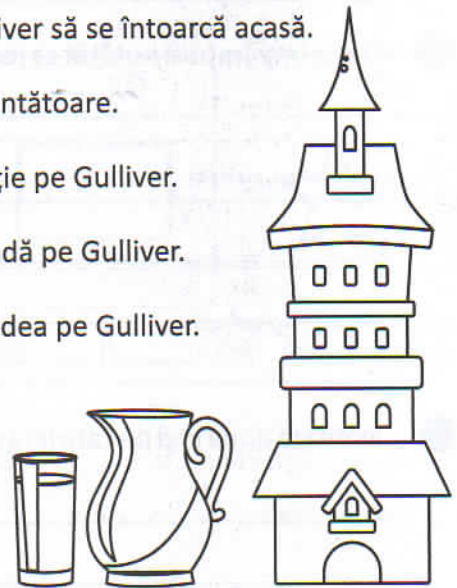
Împărăteasa, prinții și prințesele l-au studiat cu atenție pe Gulliver.

Curioși, aproape toți locuitorii insulei au venit să îl vadă pe Gulliver.

Împăratul Lilliputului a coborât din turn pentru a-l vedea pe Gulliver.

- 10 Cu ce a fost hrănit Gulliver de către bucătarii împăratului?

- a. cu două-trei mușcăături de carne și o sorbitură de vin;
b. cu bucate delicioase, necunoscute lui Gulliver;
c. cu douăzeci de carne cu carne și zece care cu băutură;
d. cu zece vase de vin.



- 11 Numește un lucru pentru care curtenii se umpleau de frică la vederea împăratului.

- 12 La vederea lui Gulliver, împăratul a trăit două sentimente. Explică ce sentimente a avut împăratul și de ce a simțit așa.



- 13 Alege cuvintele care descriu înfățișarea împăratului.
- a. „împăratul începu să mă studieze cu admirație”;
 - b. „șapte ani și-i petrecuse ca domnitor”;
 - c. „îi umplea de frică pe aceștia”;
 - d. „avea trăsături bărbătești și energice, o gură cu buze subțiri și nasul acvilin”.

14 Notează alte patru trăsături care descriu înfățișarea împăratului.

- a. _____
- b. _____
- c. _____
- d. _____

15 De ce împăratul a hotărât ca locuitorii care l-au văzut pe Gulliver să se întoarcă acasă?

16 Notează două legi pe care le-a dat împăratul.

- a. _____
- b. _____

17 Descrie cum își manifestă împăratul autoritatea față de locuitorii Lilliputului.

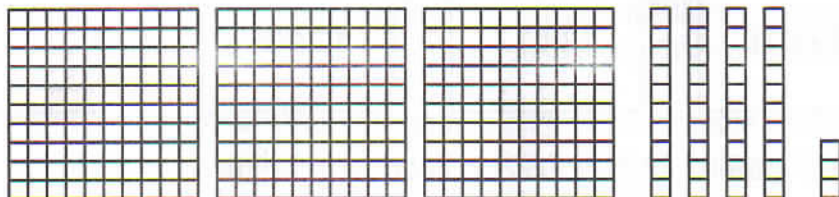
18 Care explicație descrie cel mai bine expresia „ogoarele și gospodăriile ar fi fost lăsate de izbeliște”?

- a. ogoarele și gospodăriile ar fi fost nefolosite;
- b. ogoarele și gospodăriile ar fi fost abandonate;
- c. oamenii și-ar fi neglijat ogoarele și gospodăriile;
- d. oamenii ar fi părăsit ogoarele și gospodăriile.





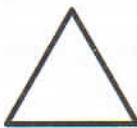


Numerele naturale mai mici sau egale cu 1 000 000

1 Ce număr este reprezentat în desen?



- a. 452 b. 356 c. 343 d. 456

2 Observă tabelul și descoperă numărul dat.

| 10 000 | 1 000 | 100 | 10 | 1 |
|---|---|---|--|---|
|  |  |  |  |  |



Numărul este:

- a. 35 425 b. 45 425 c. 45 325 d. 45 335

3 Care este cifra zecilor de mii în numărul 347 625?

- a. 2 b. 4 c. 7 d. 5

4 Încercuiește enunțul adevărat.

- a. Numărul 23 467 are 3 sute.
 b. Numărul 23 467 are 300 de sute.
 c. Numărul 23 467 are 30 de sute.
 d. Numărul 23 467 are 2 mii.

5 Alege varianta corectă de descompunere a numărului 231 754.

- a. $2 \times 100\,000 + 3 \times 10\,000 + 1 \times 100 + 7 \times 100 + 5 \times 10 + 1 \times 4$
 b. $200\,000 + 30\,000 + 1\,000 + 50 + 4$
 c. $20\,000 + 30\,000 + 1\,000 + 700 + 50 + 4$
 d. $2 \times 100\,000 + 3 \times 10\,000 + 1 \times 1\,000 + 7 \times 100 + 5 \times 10 + 1 \times 4$

6 Care din următoarele numere este scris cu cifre consecutive?

- a. 234 678 b. 345 789 c. 123 567 d. 345 678

- 7 Observă numerele de pe căsuțe. Care număr lipsește?



- a. 12 006 b. 12 060 c. 12 016 d. 12 006

- 8 Care este varianta corectă de scriere cu litere a numărului 19 465.

- a. nouă spre zece mii patru sute șaiszeci și cinci;
b. nouăsprezece mii patru sute șasezeci și cinci;
c. nouăsprăzece mii patrusute șaiszeci și cinci;
d. nouăsprezece mii patru sute șaiszeci și cinci.

- 9 Care din următoarele șiruri conține doar numere impare?

- a. 12 303, 3 453, 1 000, 245 999, 19 505;
b. 12 303, 3 452, 1 001, 245 999, 19 505;
c. 12 303, 3 453, 1 001, 245 999, 19 505;
d. 12 330, 3 453, 1 001, 245 999, 19 505.

- 10 Extrage din șirul de mai jos numerele care sunt mai aproape de 6 000.



- 11 O bibliotecă a primit donație un număr de 1 200 de volume. Numărul total de volume existente acum reprezintă un număr par. Câte volume are biblioteca dacă numărul total e cel mai mic număr care se poate scrie cu cifrele 4, 9, 7, 3, 2?

- 12 Anul în care s-a născut scriitorul Cezar Petrescu este 1 892. Care este numărul corespunzător scris cu cifre romane?

- a. MCMXCII b. MDCCXCII c. MDCCCXCII d. MDCCCLXXXII